



ATIVIDADES COMPLEMENTARES DE ESTUDO – COVID 19

ROTEIRO DE ATIVIDADES COMPLEMENTARES DE ESTUDO – COVID 19
10º ROTEIRO

ESCOLA MUNICIPAL DR. VITÓRIO FRANKLIN

PROFESSORA: LUCI ANE FERNANDES TURMA: Sala de Recurso B - Grupo 1

COMPONENTES CURRICULARES: LÍNGUA PORTUGUESA e MATEMÁTICA.

PERÍODO DE REALIZAÇÃO: 03 a 07 de maio DE 2021

NOME : _____

O QUE VOCÊ VAI ESTUDAR:	<ul style="list-style-type: none"> ➤ <u>Língua Portuguesa:</u> Leitura e interpretação de texto, escrita de frase, ortografia fixação do s, separação de sílabas. ➤ <u>Matemática:</u> sistema de numeração, operações e sistema monetário.
PARA QUE VAMOS ESTUDAR ESSES CONTEÚDOS?	<ul style="list-style-type: none"> ➤ Língua Portuguesa: Realizar a leitura do texto e responder as questões explícitas nele. Encontrar no caça-palavras, palavras com a letra s. Escrever frase. ➤ Matemática: Organizar os números em ordem crescente, separá-los em pares e ímpares, antecessor e sucessor e escrevê-los por extenso. Resolver operações de adição e situações problemas envolvendo sistema monetário.
COMO VAMOS ESTUDAR OS CONTEÚDOS?	<ul style="list-style-type: none"> ➤ Lendo e respondendo as atividades propostas pela professora.

LÍNGUA PORTUGUESA

1- LEIA O TEXTO COM MUITA ATENÇÃO:



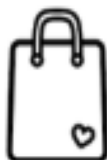
ATIVIDADES COMPLEMENTARES DE ESTUDO – COVID 19

LEIA O TEXTO E CIRCULE AS PALAVRAS INICIADAS
COM A LETRA S.



O S ESTÁ NO SAPO.
NO SAPATO E NO SINO.
ESTÁ NO SOFÁ E NA SACOLA
E NA SEMENTE DO PEPINO.

ESCREVAS OS NOMES DOS DESENHOS.



2- ESCOLHA UM DESENHO E FORME UMA FRASE COM ELE:



ATIVIDADES COMPLEMENTARES DE ESTUDO – COVID 19

MARQUE AS PALAVRAS COMEÇADAS COM S NO CAÇA-PALAVRAS.



S	O	R	V	E	T	E
O	S	A	P	A	T	O
L	T	M	S	A	C	I
S	E	R	E	I	A	V
D	S	O	C	O	C	S
J	P	S	A	L	A	O
F	S	I	N	O	R	N
S	E	L	O	G	T	O

AGORA ESCREVA AS PALAVRAS QUE VOCÊ PINTOU:



ATIVIDADES COMPLEMENTARES DE ESTUDO – COVID 19

MATEMÁTICA

1) Observe os números abaixo:

58 – 27 – 35 – 12 – 42 – 169 – 7 – 94 – 281 –







a) Copie os números na ordem crescente:

b) Copie todos os números pares:

c) Copie todos os números ímpares:

d) Escreva por extenso o maior número representado acima.

2- RESOLVA AS ADIÇÕES COM ATENÇÃO.

					
$\begin{array}{r} 44 \\ +12 \\ \hline \end{array}$	$\begin{array}{r} 53 \\ +14 \\ \hline \end{array}$	$\begin{array}{r} 32 \\ +24 \\ \hline \end{array}$	$\begin{array}{r} 25 \\ +23 \\ \hline \end{array}$	$\begin{array}{r} 47 \\ +21 \\ \hline \end{array}$	$\begin{array}{r} 56 \\ +23 \\ \hline \end{array}$

3-COLOQUE O NÚMERO QUE VEM ANTES E DEPOIS.







	27	
	15	
	9	
	22	
	10	

	6	
	29	
	35	
	17	
	5	

ATIVIDADES COMPLEMENTARES DE ESTUDO – COVID 19

4- HÉLIO E GISELE FORAM A UMA LOJA DE BRINQUEDOS E COMPRARAM ALGUNS PRODUTOS.

VEJA NA TABELA ABAIXO O PREÇO DOS PRODUTOS, COMPLETE A TABELA E RESPONDA AS QUESTÕES ABAIXO.

Preço	Comprei	Gastei
		$5 + 5 = \square$ R\$ = <input type="text"/>
		$4 + 4 + 4 = \square$ R\$ = <input type="text"/>
		$2 + 2 + 2 + 2 = \square$ R\$ = <input type="text"/>

A) HÉLIO COMPROU UM JOGO DE DOMINÓ E UMA BOLA. QUANTO ELE GASTOU?

B) GISELE COMPROU UMA BONECA E UM JOGO DE DOMINÓ. QUANTO ELA GASTOU?

C) QUEM GASTOU MAIS NA LOJA? MARQUE COM UM X.

() HÉLIO () GISELE